

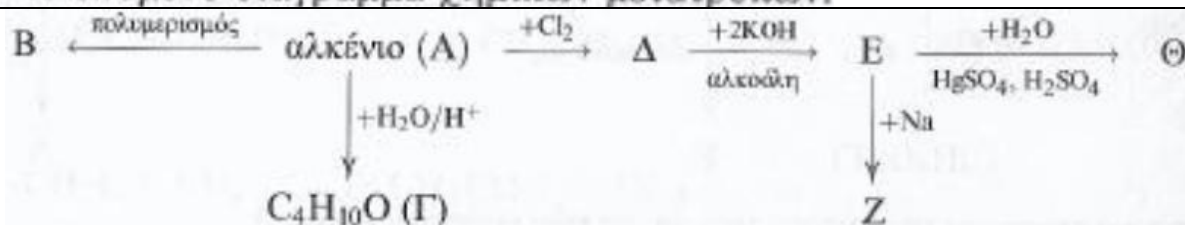
ΦΥΛΛΟ ΕΡΓΑΣΙΑΣ ΣΤΑ ΑΛΚΕΝΙΑ/ΑΛΚΙΝΙΑ

ΟΝΟΜΑ

ΕΠΙΘΕΤΟ

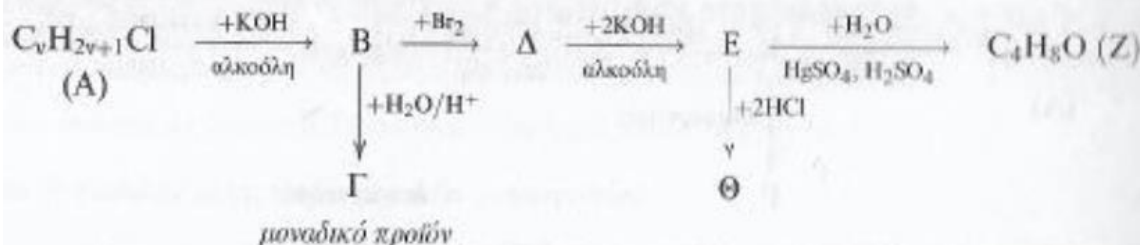
ΤΜΗΜΑ

1. Δίνεται το επόμενο διάγραμμα χημικών μετατροπών:



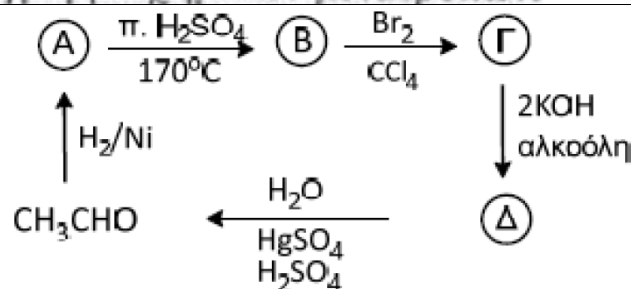
Να γράψετε τους συντακτικούς τύπους των οργανικών ενώσεων Α έως Θ.

2. Δίνεται το επόμενο διάγραμμα χημικών μετατροπών:



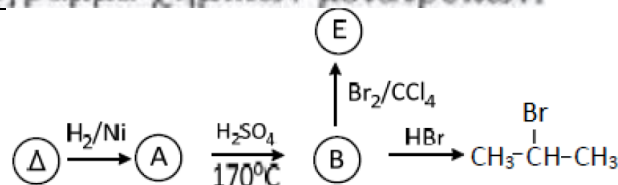
Να γράψετε τους συντακτικούς τύπους των οργανικών ενώσεων Α έως Θ.

3. Δίνεται το επόμενο διάγραμμα χημικών μετατροπών:



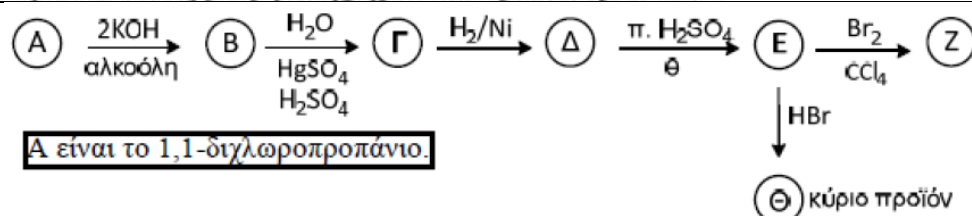
Να γράψετε τους συντακτικούς τύπους των οργανικών ενώσεων Α έως Δ.

4. Δίνεται το επόμενο διάγραμμα χημικών μετατροπών:



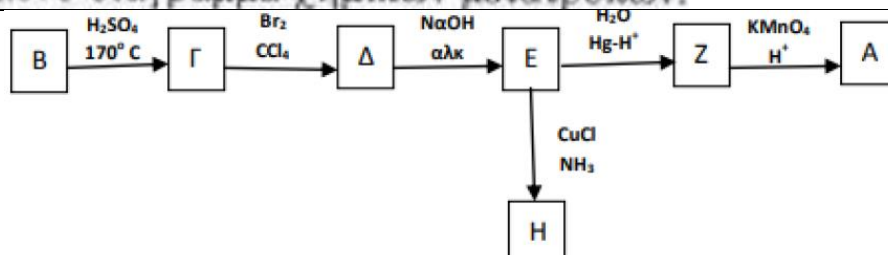
Να γράψετε τους συντακτικούς τύπους των οργανικών ενώσεων Α έως Ε

5. Δίνεται το επόμενο διάγραμμα χημικών μετατροπών:



Να γράψετε τους συντακτικούς τύπους των οργανικών ενώσεων Α έως Θ.

6. Δίνεται το επόμενο διάγραμμα χημικών μετατροπών:



Να γράψετε τους συντακτικούς τύπους των οργανικών ενώσεων Α έως Η